

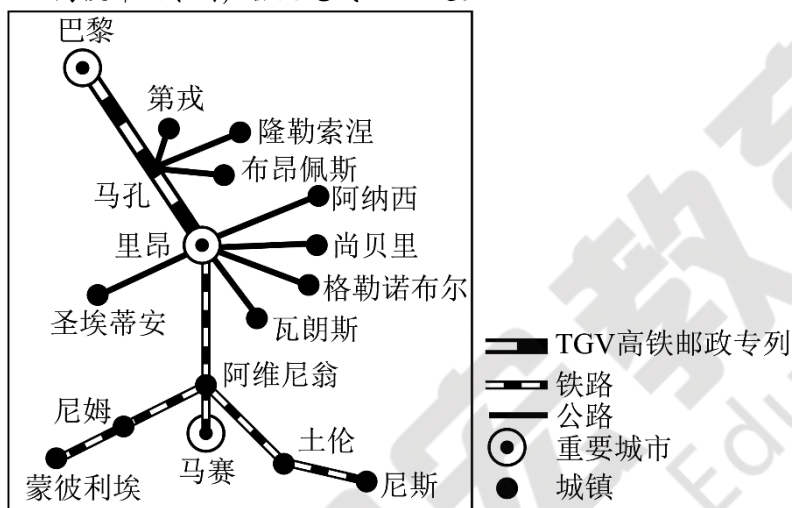
高 2024 届高三热身考试文科综合测试

考试时间：150 分钟 总分：300 分

第 I 卷

本卷共 35 题，每题 4 分，共 140 分。在每题给出的四个选项中，只有一项是最符合题目要求的。

法国是世界上最早开展高铁货运业务的国家。1984 年，巴黎—里昂的 TGV 高铁邮政专列开通，均为夕发朝至，并与沿线公路系统相结合，实现了邮政包裹“门对门”的快速运输，促进了沿线高铁物流的飞速发展，下图示意 TGV 高铁邮政专列，据此完成 1—2 题。



1. TGV 高铁邮政专列与公路运输相结合的主要目的是 ()
 - A. 分散市场风险
 - B. 避免恶性竞争
 - C. 提升基础设施
 - D. 扩大物流腹地
2. TGV 高铁邮政专列均为夕发朝至，这样可以 ()
 - A. 提高运输速度
 - B. 解决邮件延误
 - C. 协调高铁客运
 - D. 减少噪声污染

设施农业是指采用人工建造设施，使传统农业在一定程度上摆脱自然条件约束，实现农产品反季节或常年上市的农业。近年来，新疆维吾尔自治区在保护生态和不增加用水总量前提下，合理利用各种非耕地资源大力发展设施农业，设施农业面积不断扩大。下图示意新疆某现代设施农业生产基地采用“立体+营养土”种植景观。据此完成 3—5 题。



3. 与传统农业相比，设施农业 ()
 - A. 农产品季节性明显
 - B. 受天气变化影响大
 - C. 生产成本相对较低
 - D. 农业生产效率更高

4. 近年来, 新疆设施农业面积不断扩大的有利自然条件是 ()

- A. 昼夜温差大 B. 灌溉水源丰富
C. 戈壁荒漠广布 D. 热量充足

5. 当地采用“立体+营养土”种植, 可以 ()

①提高单位面积产量 ②减少土壤盐碱化 ③增加土地资源 ④扩大市场范围

- A. ①② B. ②③ C. ③④ D. ①④

沙尘天气形成一般需要具备沙尘源、大气层结(大气温度、湿度的垂直分布)不稳定和大风三个基本条件。沙尘暴是沙尘天气的一种, 虽是气象灾害, 但对维持海洋生态具有重要作用。2020年6月, 非洲撒哈拉沙漠的巨大沙尘暴跨越大西洋到达中美洲海域。据此完成6—8题。

6. 不稳定的大气层结状态主要利于 ()

- A. 增强地面风力的侵蚀强度 B. 降低植被的固沙作用
C. 增大地面向上方的输沙量 D. 减少土壤中的含水量

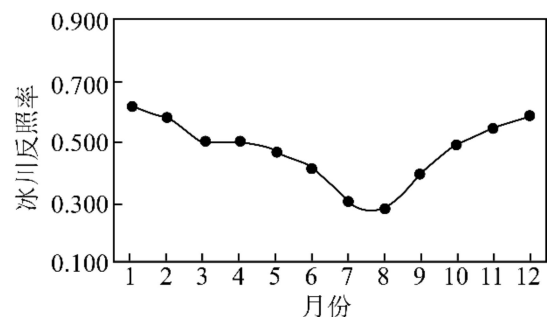
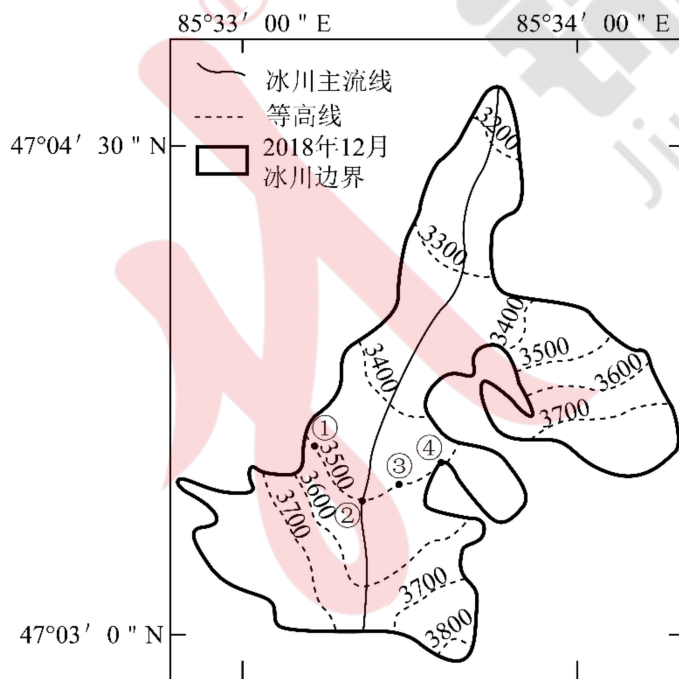
7. 沙尘颗粒从撒哈拉沙漠跨越大西洋到达中美洲海域主要依赖于 ()

- A. 西风 B. 信风 C. 季风 D. 飓风

8. 沙尘颗粒沉降入大西洋, 对海洋生态的作用主要是 ()

- A. 海水温度降低, 增加海水的含氧量 B. 海上降水增多, 减轻海水富营养化
C. 增加有机质, 为鱼类提供饵料 D. 提供矿物养分, 利于藻类生长

冰川反照率是指冰川表面反射太阳辐射能量与吸收太阳辐射能量的比值。冰川反照率存在显著的时空差异, 主要跟积雪、裸冰范围、吸光性杂质含量和太阳入射角等因素有关。木斯岛冰川位于萨吾尔山北坡, 不同时期 3600 米以上的冰川反照率都会随海拔升高而降低。左图为木斯岛冰川分布图, 右图为 2011~2021 年木斯岛冰川反照率各月平均变化图。据此完成 9—11 题。



9. 木斯岛冰川反照率月平均最低值出现在 8 月, 主要原因是 ()

- A. 降水量大 B. 植被覆盖率高 C. 太阳高度角小 D. 冰川消融大

10. 同一时期, 图中①②③④四个点中冰川反照率最高的应该是 ()

- A.① B.② C.③ D.④

11. 木斯岛冰川反照率在海拔 3600 米以上，总体随海拔升高而降低的主要原因是（ ）

- A. 坡越陡，冰雪堆积越难 B. 海拔越高植被越少
C. 海拔越高太阳入射角越小 D. 海拔越高降水越少

12. 马克思指出：“投在商品中的劳动是否被计入，就要看他是不是投在对于他们有用的形态上。惟劳动是否对于他人有用，其生产物是否可以满足他人的欲望，又只有通过交换的手段来证实。每个商品所有者都只有为那些有使用价值可以满足本人欲望的他种商品，换取自己的商品。”这段话表明

- ①劳动是形成商品价值的唯一源泉 ②等价交换是商品交换的重要原则
③价值大小取决于对他人是否有用 ④使用价值不同是商品交换的前提
A. ①② B. ①③ C. ②④ D. ③④

13. 某直播带货平台迅速走红全网。业内人士分析，优质的直播内容、恰逢其时的时间节点以及多年教培行业的积累是其迅速走红的原因。该平台的成功告诉我们

- ①合理的跨界经营有利于实现资源优化配置 ②顺应市场需求有助于提升企业市场竞争力
③实现多样化经营能够不断提高企业的效率 ④只有创新销售模式，才能激发消费新活力
A. ①② B. ①③ C. ②④ D. ③④

14. 银发经济是向老年人提供产品或服务，以及为老龄阶段做准备等一系列经济活动的总和，涉及面广、产业链长、业态多元、潜力巨大。2024 年《政府工作报告》明确“加强老年用品和服务供给，大力发展银发经济。”下列发展银发经济的措施及其传导正确的是

- ①制定产业发展规划→提高养老行业的准入门槛→促进养老产业集群发展
②鼓励社会力量参与→构建多样化养老服务体系→弥补养老资源供给不足
③发放老年助餐消费券→降低老年人用餐生活成本→提高老年人消费能力
④移动互联网应用适老化改造→打破数字鸿沟→助力老年人融入智能社会
A. ①③ B. ①④ C. ②③ D. ②④

15. 2023 年中央经济工作会议提出打造“投资中国”品牌。2024 年 3 月，由商务部和北京市人民政府共同主办的“投资中国”首场标志性活动在北京举行。打造“投资中国”品牌的有利条件有

- ①我国的劳动力等生产要素成本上升，本国市场的竞争日趋激烈
②我国拥有完整的工业门类，能保障外商投资的利润持续不断增长
③我国具有超大规模市场优势和人力资源优势，发展前景广阔
④我国合理缩减外资准入负面清单，进一步放宽外商投资准入限制
A. ①② B. ①④ C. ②③ D. ③④

16. Z 省在国家治理制度框架下，谋划实施“县乡一体、条抓块统”集成改革。“县乡一体”就是打通县乡断层，形成扁平高效的治理共同体。所谓“条抓”，就是全面推动职能部门在保障履行专业职责基础上更大程度放权基层、服务基层。“块统”则把乡镇做强，提高对资源、平台、队伍的统筹协调能力。Z 省推动集成改革旨在

- ①降低行政机关运行成本，提高行政效率 ②贯通县乡治理主体，提升基层治理质效
③创新基层群众自治形式，发展基层民主 ④建设职能科学政府，更好服务人民群众
A. ①② B. ①③ C. ②④ D. ③④

17. 3 月 19 日，香港特别行政区《维护国家安全条例》（以下简称《条例》）全票通过，标志着“缠绕香港 27 年”的香港基本法第 23 条立法成功落地。《条例》对香港国安法中未涵盖的五类危害国家安全罪行进行规管，同时明确与维护国家安全相关的执法权力、诉讼程序、机制保障等。该《条例》的制定

- ①旨在从法律上确认香港是中国神圣而不可侵犯的领土

- ②彰显香港特别行政区切实履行维护国家安全宪制责任
③能够消除各种风险，构筑起维护国家安全的坚强防线
④促进香港由治及兴，推动“一国两制”实践行稳致远

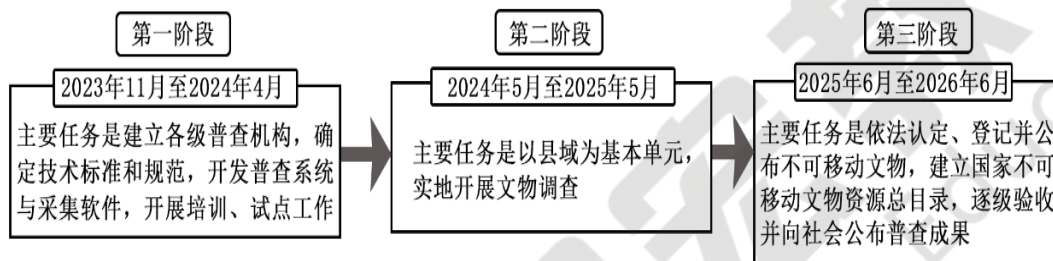
A. ①③ B. ①④ C. ②③ D. ②④

18. 我国宪法规定：任何国家机关、社会团体和个人不得强制公民信仰宗教或者不信仰宗教，不得歧视信仰宗教的公民和不信仰宗教的公民。任何人不得利用宗教进行破坏社会秩序、损害公民身体健康、妨碍国家教育制度的活动。这些规定

- ①有利于发挥宗教的积极作用，使宗教与社会主义相适应
②能促进我国宗教健康发展，更好地保障公民的民主权利
③为管理宗教事务提供法律依据，保护了合法的宗教活动
④坚持了独立自主自办原则，能维护国家统一和社会稳定

A. ①③ B. ①④ C. ②③ D. ②④

19. 2023 年 10 月，国务院印发《关于开展第四次全国文物普查的通知》，决定于 2023 年 11 月起开展第四次全国文物普查。此次普查分三个阶段进行（如下图）。文物普查旨在



- ①掌握文物的基本情况、存在现状，更好地保护文物和传承文明
②铭记历史，看见岁月，在改造以文物为载体的文化中开拓前进
③根据实际情况，合理规划，利用先进的技术手段提高普查效率
④发挥文物文化价值，普查宣传，增强全民文化遗产保护意识

A. ①③ B. ①④ C. ②③ D. ②④

20. 东方风来，为世界带来融融春意。在意大利，汉服巡游亮相威尼斯狂欢节，东方美学惊艳世界；在伦敦特拉法加广场，有“中华战舞”之称的潮汕英歌舞气势如虹，火爆出圈；在日内瓦国际车展，带有中国文化元素的电动车深受欧洲消费者青睐。这启示我们

- ①坚定文化自信，积极传播和弘扬中华优秀传统文化
②丰富中华优秀传统文化的主要内容，彰显当代价值
③推动中华文明与世界不同文明加强交流，增进共识
④学习借鉴外来文化的有益成果，促进文化创新发展

A. ①② B. ①③ C. ②④ D. ③④

21. 近年来，我国在脑机接口领域不断取得新进展，技术持续迭代。脑机接口技术是指在人脑与外部设备之间建立直接连接通路，捕捉脑电信号的微妙变化，解码大脑意图，实现以“意念”操控外部设备。这表明，脑机接口技术

- ①构建了人脑与外部世界新的交互方式 ②进一步增强了人类意识活动的直接现实性
③佐证了科技的进步都是通过创新实现的 ④实现了新技术对原有技术的摒弃和迭代

A. ①② B. ①③ C. ②④ D. ③④

22. 2024 年 4 月 10 日，习近平总书记在北京会见马英九一行并发表重要讲话。习近平强调，“两岸同胞

同属中华民族”“两岸同胞要坚决反对“台独”分裂活动和外部势力干涉，坚定守护中华民族共同家园，共同追求和平统一的美好未来，把中华民族的命运牢牢掌握在中国人自己手中”。由此可见，两岸关系和平发展需要我们

- ①居安思危，把握好斗争性向同一性转化的条件
- ②遵循规律，顺应祖国实现完全统一的历史大势
- ③迎难而上，要克服两岸统一道路上的困难挫折
- ④化解矛盾，彻底消除“台独”分裂图谋的影响

A. ①③ B. ①④ C. ②③ D. ②④

23. 获得“感动中国 2023 年度人物”称号的大国工匠张连钢，扎根港口研发生产一线 30 余年，带领团队攻坚克难、艰辛探索，一次次冲击世界港口科技的制高点，让“中国智造”的旗帜在全球自动化码头的高峰上迎风飘扬。他说：“建设世界一流海洋港口，中国应该拥有属于自己的‘样本’。”这启示我们

- ①社会提供的客观条件是人们实现人生价值的前提
- ②把献身国家和人民事业作为人生的最高价值追求
- ③艰苦奋斗能让理想摆脱不利条件制约而变为现实
- ④坚持正确的理想信念是实现人生价值的精神动力

A. ①③ B. ①④ C. ②③ D. ②④

24. 近年，考古工作者在江西国字山发现了战国中期的大型墓葬。该墓葬具有突出的越文化特征，同时又有楚文化和江淮文化等文化因素，墓葬形制也与中原墓葬有相似之处。此考古发现

- A. 印证了“春秋五霸”的政治格局
- B. 反映了中华文明多元一体的特点
- C. 证明中原率先成为中华文明核心
- D. 说明了统一多民族国家已经建立

25. 唐代中期，长安城许多坊中拥有各式各样的旅店，如旅邸、僦舍、旅馆、寄舍等；地方馆驿往往应接频繁，“馆”与“驿”逐渐统一。开元时期以邮递为主的“驿传”称谓大大减少，取而代之的“驿馆”迅速增多。由此可推知，当时

- A. 居住条件日益优越
- B. 坊市分区制被打破
- C. 对户籍的管制废弛
- D. 流动人口数量较大

26. 北宋初期，政府严格禁止兵书的印制流传。神宗时期诏命国子监校订《孙子兵法》等七种古代兵书并编为《武经七书》，印制发放给军队学习。这种变化说明北宋

- A. 印刷技术的进步
- B. 边疆形势的严峻
- C. 文化教育的发展
- D. 治国思想的转变

27. 明清时期，番薯已经成为南方地区人们信仰中的组成部分，经常会有民众建造各种庙宇对其进行供奉，至今仍然可以在福建地区见到“先薯祠”“先薯亭”等。由此可以看出

- A. 粮食问题得以解决
B. 番薯已成为主要农作物
C. 农耕文明影响深远
D. 中外经济文化交流频繁
28. 右图为欧洲最有影响力的漫画杂志《笨拙》1860年12月22日刊登的漫画。该漫画可用于说明



《在中国我们应该做什么》

- A. 清王朝落后挨打的必然性
B. 列强扩大殖民权益的野心
C. 中国外在形象的演进过程
D. 鸦片战争爆发的历史背景
29. 1920年夏，一批知识分子深入劳动界开展社会调查，足迹遍及上海、天津、南京、武汉、唐山等地，调查对象涵盖纺织、煤矿、兵工、造船、冶铁等行业的工人以及人力车夫和码头工人，涉及工人的劳动、生活、家庭、教育等情况。这反映出

- A. 劳工觉悟的提升
B. 研究方法的创新
C. 救亡之路的转向
D. 新型政党的建立

30. 1945年4月，毛泽东在《论联合政府》报告中强调：“只有经过民主主义，才能到达社会主义，这是马克思主义的天经地义。而在中国，为民主主义奋斗的时间还是长期的。”毛泽东旨在

- A. 为当时中国革命指明正确方向
B. 说明抗日战争具有持久性特征
C. 联合爱国人士反抗国民党统治
D. 配合中国共产党进行重庆谈判
31. 自20世纪80年代开始出现“民工潮”，从四川、安徽、河南等10多个省输出的劳动力，集中流向珠江三角洲、沪宁杭、京津和福建沿海地区。据估计1994年全国跨省跨地区的民工流动总量约2000万人。当时“民工潮”的出现

- A. 促进了农村经济体制改革
B. 推动沿海城市对外开放
C. 使劳动力得到有效配置
D. 导致我国人口加快增长

32. 下表是《十二铜表法》的部分条文，由此可以推知，该法典

所属条目	内容
第3表第1条	如债权人有多人时，得分割债务人的肢体进行分配，纵未按债额比例切块，亦不以为罪。
第4表第2条	家属终身在家长权的支配下。家长得监察之、殴打之、使作苦役，甚至出卖之或杀死之。纵使子孙担任了国家高级公职的亦同。
第8表第2条	凡故意伤人肢体而又未能取得调解时，则伤人者也应受到同样的伤害。

- A. 重视对司法证据的应用
B. 注重保护公民私有财产
C. 保证了社会的公平正义
D. 带有野蛮的习惯法传统
33. 位于伦敦西郊的汉姆别墅花园是一座建于17世纪的贵族府邸，这里保存有完整的日式壁柜、屏风，中国漳州产的青花瓷茶具，还有印度杉木茶桌和一个藤编椅面的靠背椅。这座建筑内的陈设可以用来佐证
- A. 殖民活动的残酷
B. 英国社会结构的变化
C. 世界贸易的发展
D. 英国权力中心的转移
34. 法国1887年颁布的《纪念物保护法》要求国家对与国家利益相关的历史纪念物进行保护；1913年颁布的《历史文物法》要求国家对从历史或艺术角度符合公共利益的建筑进行列级保护，有的私人建筑甚至可以不经产权人的同意进行征收。这些做法
- A. 阻碍法国城市化进程
B. 与民众生活有机结合
C. 意在增强民族自豪感
D. 注重彰显城市的个性
35. 20世纪60年代，“全球南方”概念开始出现。21世纪以来，一些西方国家急于为中国等发展中国家

家戴上“发达国家”的帽子，出现了抛弃“发展中国家”概念的声音。与之相对，“全球南方”概念则在国际社会再度流行起来。在 2023 年金砖国家安全事务高级代表会议上，中国指出，独立自主是“全球南方”的政治底色，发展振兴是“全球南方”的历史使命。材料表明

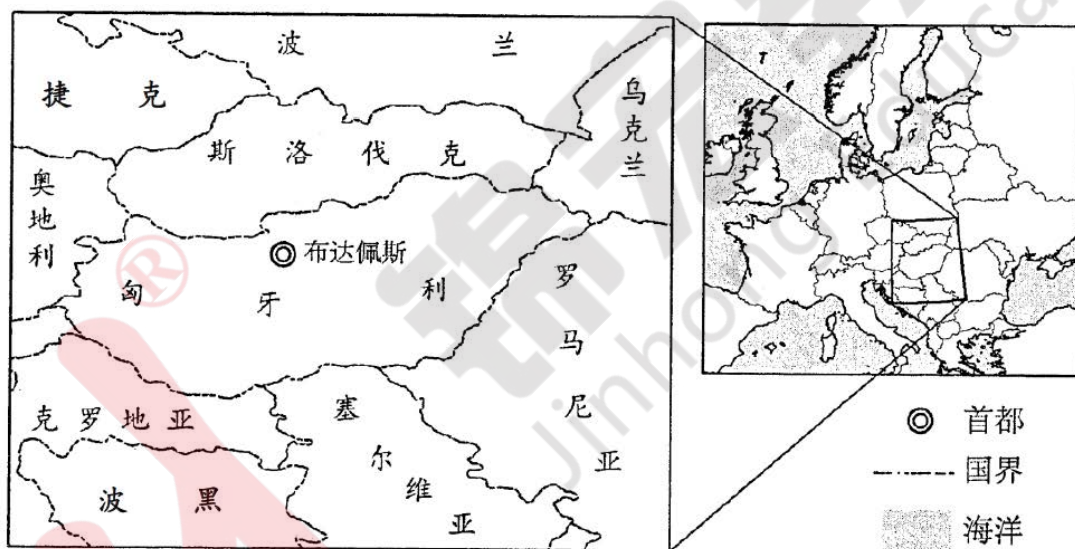
- A. 国际秩序加速变革 B. 世界科技革命持续进行
C. 区域集团不断增加 D. 各国依存程度日益加深

第 II 卷

本卷包括必考题和选考题两部分。第 36~42 题为必考题，每个试题考生都必须作答。第 43~47 题为选考题，考生根据要求作答。

36. 阅读图文材料，完成下列要求。(22 分)

匈牙利是首个加入“一带一路”倡议及建立人民币支付清算体系的欧盟国家；其经济发展水平相对较低，汽车产业历史悠久，政府通过税收抵免等政策为外资企业创造投资环境。在全球变暖背景下，近年来中国新能源汽车出口爆发式增长，欧洲成为我国新能源车企“出海”的主要目的地；众多中国新能源汽车配套企业落户匈牙利，其中世界规模最大、技术最先进的电池制造商 N 公司在匈牙利建设电池生产基地，拟于 2025 年正式投产。下图示意匈牙利地理位置。



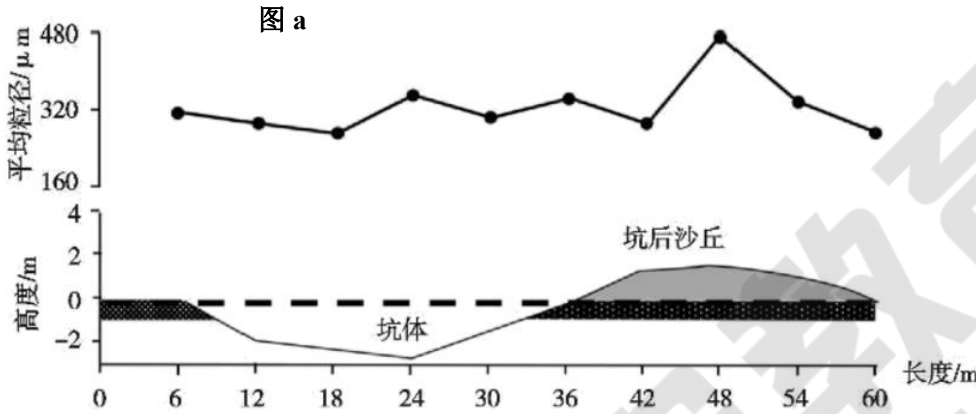
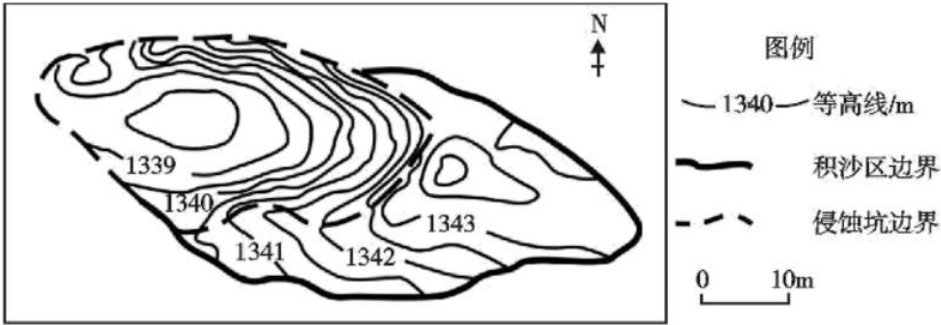
(1) 简述欧洲成为中国新能源车企“出海”主要目的地的理由 (6 分)。

(2) 从生产成本角度，分析中国新能源汽车配套企业落户匈牙利的原因 (8 分)。

(3) 从产业发展角度，简析中国 N 公司在匈牙利建设电池生产基地对当地的有利影响 (8 分)。

37. 阅读图文材料，完成下列要求。(24 分)

风蚀坑是指松散或裸露的沙质地表经风蚀而成的地貌，由侵蚀坑和坑后沙丘组成，是草原景观破碎化并转变为沙地的临界标志。某科研团队调查发现风蚀坑底部植被恢复速率一般高于积沙区。图 a 为内蒙古某风蚀坑等高线分布图，图 b 为内蒙古该风蚀坑表面沉积物粒径变化及剖面示意图。

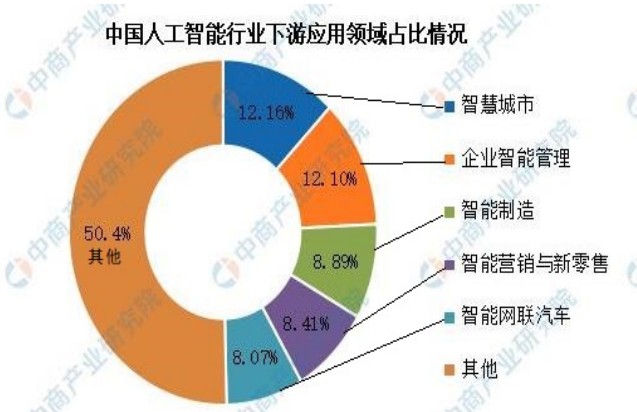


- (1)指出坑后沙丘由丘顶到背风坡坡脚表面沉积物粒径的变化特征，并说明其原因（8分）。
- (2)阐释坑后沙丘的形成过程（6分）。
- (3)分析风蚀坑底部植被恢复速率高于积沙区的原因（6分）。
- (4)有人认为人类在风蚀坑的放牧活动会加剧风蚀。你是否赞同并说明理由（4分）。

38. 阅读材料，完成下列要求。（14分）

2024 年国务院政府工作报告首次将开展“人工智能+”行动写入其中，人工智能已成为我国加快发展新质生产力的核心驱动力。

材料一



注：2023 年，我国人工智能相关企业数量达 4482 家，居全球第二。相关研究机构预测，到 2035 年，我国人工智能产业规模为 1.73 万亿元，全球占比达 30.6%。

(1) 解读材料一包含的经济信息。(4 分)

材料二 医学设备智能出具检查报告、智能系统 30 秒内生成未来 10 天逐 6 小时全球天气预报、农田里的机器自动灌溉施肥……这些充满科技感的场景背后，都离不开人工智能。作为新一轮科技革命和产业变革的重要驱动力量，人工智能深度赋能实体经济，与各行各业相融合，将新技术转化为新质生产力。

在制造业领域，某钢铁企业利用数字画像功能，针对每支钢材进行质量、效率、能耗等多维度的细致评价，为生产决策提供有力支持；在消费品行业，一台智能咖啡机器人，75 秒就可以出一杯高品质咖啡，还可以应顾客需要生成任何图案并印在咖啡表面……在与千行百业的深度融合中，“人工智能+”的能力边界正在不断拓展，一个个“+”，将加出更多新突破、新模式、新机遇。

(2) 结合材料二，运用经济生活知识，分析开展“人工智能+”行动对促进我国经济高质量发展的意义。(10 分)

39. 阅读材料，完成下列要求。(12 分)

制度稳则国家稳，制度强则国家强。2024 年是全国人民代表大会成立 70 周年，70 年的实践充分证明，人民代表大会制度是符合中国国情的好制度。

新时代全国人大紧跟党中央重大决策部署，紧贴人民美好生活需要，健全完善人大预算审查监督制度，推进全国人大及其常委会预算审查监督工作深化拓展。2023 年，全国人大常委会完善预算全链条审查监督机制，做好预算编制监督、预算执行监督、预算调整审查等环节工作；推动全国人大常委会预算审查监督重点向支出预算和政策拓展，推动国务院和有关方面优化支出结构，加强绩效管理和财会监督；听取审议国务院关于审计查出问题整改情况报告，对审计查出突出问题整改情况开展跟踪监督，推动建立健全整改长效机制。

结合材料和政治生活的知识，说明全国人大常委会加强预算审查监督的依据，并阐述完善人大预算审查监督制度的意义。

40. 阅读材料，完成下列要求。(26 分)

材料一 西部地区，既包括宁夏、新疆、西藏、广西、内蒙古这五个民族自治区，又涉及少数民族分布较多的甘肃、青海、云南、贵州、四川等省份，面积广、范围大、经济社会发展任务重。2024 年 4 月 23 日，习近平总书记在重庆主持召开新时代推动西部大开发座谈会并发表重要讲话时，鲜明提出“要坚持铸牢中华民族共同体意识”。

支持少数民族和民族地区加快发展，是西部大开发的重要任务。当前西部地区经济社会发展取得的成就，离不开党中央的决策部署，也是各族人民群众团结奋斗的结果。谱写西部大开发新篇章，推动民族地区经济发展、人民群众普遍受惠、城乡面貌日新月异，尤其需要各族人民铸牢中华民族共同体意识，牢固树立休戚与共、荣辱与共、生死与共、命运与共的共同体理念，共促大团结，齐心协力共建美好家园。

材料二 绿色生态是江西最大财富、最大优势、最大品牌。打造国家生态文明建设高地，江西从未停步。在习近平生态文明思想的指引下，江西省精准施策，高标准打造美丽中国“江西样板”取得明显成效：全省森林覆盖率稳定在 63.1%以上，保持全国第二；靖安生态文明建设实践、抚州生态产品价值实现机制、赣南山水林田湖草沙综合治理、九江夹地合作“共抓大保护”等特色改革品牌持续打响；全流域生态补偿、国土空间规划、河湖林长制、生态司法改革、绿色金融创新等改革走在全国前列，35 项改革举措和经验做法在全国推广，具有江西特色的生态文明制度体系基本形成，实现了“生态美”与“百姓富”同频共振。美丽中国“江西样板”能引领全国走一条经济发展和生态文明相辅相成、相得益彰的路子。

(1) 谱写西部大开发新篇章要坚持铸牢中华民族共同体意识。结合材料一并运用文化力量的知识加以说明。(10 分)

(2) 美丽中国“江西样板”，不仅属于江西也属于全国。结合材料二，运用矛盾的普遍性和特殊性的关系知识加以说明。(12 分)

(3) 美丽中国建设需要我们每一个人的努力，请你为生态文明建设提出两条建议。(4 分)

41. 阅读材料，完成下列要求。(25 分)

材料一 1936 年，中央直属企业的产值占全部工业产值的 90%。从一个小别针到巨型发电机的生产都要受国家计划委员会控制，受政府有关部、局的领导。1957 年 2 月，赫鲁晓夫要求把工业和建筑业的日常领导工作从中央转到地方。最高苏维埃于 5 月决定撤销 25 个中央部和 113 个加盟共和国的部，只留下航空、无线电、造船、化学、中型机械等几个中央部。赫鲁晓夫认为，放松中央控制会推动生产发展。中央统一管理被削弱后，各地滋生了严重的本位主义，彼此矛盾重重，互相扯皮。赫鲁晓夫逐渐又把权力收回中央。他先是合并地区国民经济委员会，最后又成立最高国民经济委员会。后来又出现了各类工业部门的全国性委员会。结果，到 1963 年时，管理工业的机构不仅没有像原来设想的那样有所精简，反而扩大了二三倍。工业和建筑业管理组织的改革没有取得积极成果。

——摘编自《赫鲁晓夫工业方面的改革》

材料二 国有企业改革一步一个脚印，不断向前推进。从改革开放之初到 20 世纪 80 年代末，我国先后对国有企业实行扩权让利、承包经营责任制、股份制等方面的改革。这些改革措施，对国有企业经济效益的改善和推进中国经济发展起到了积极的作用，使国有企业的活力有所增强，对宏观经济环境 and 市场变化的适应能力逐步提高。进入 20 世纪 90 年代，我国的国有企业改革在 80 年代的基础上朝着转换机制、政企分开、制度创新、战略调整的方向迈进。在对国有企业经营者实行激励的同时，国家还加强了对国有企业的监管。一方面，国家对一些重点企业实行了稽察特派员制度，加强了国有企业监事会工作。另一方面，为保证激励和约束的依据的真实性，大部分地区对一些国有企业实行了会计委派制。

——摘编自国家统计局《国有企业稳步改革》

(1) 根据材料一并结合所学知识，分析说明苏联工业改革的背景和失败原因。(10 分)

(2) 根据材料二并结合所学知识，说明我国国有企业改革的特点，并分析其意义。(12 分)

(3) 根据材料并结合所学知识，分析影响企业改革成效的因素。(3 分)

42. 阅读材料，完成下列要求。(12 分)

材料 有三个时代，中国人特别热衷讨论“中国”。第一个时代是北宋，关于“正统论”的讨论在当时非常热闹。第二个时代，也就是 20 世纪上半叶，这段时间热衷讨论“中国”和“中华民族”。第三个时代，应该就是当下，现在中国崛起。需要思考三个方面的问题：第一，我们要重新认识历史中国是怎么样的？第二，要认识现在我们是一个怎么样的国家？第三，要认识中国未来要如何和世界相处？

——摘编自葛兆光《什么时代中国要讨论“何为中国”》

从材料中任选一个时代或者多个时代，自拟论题并对学者的观点进行解读。(要求：史论结合，逻辑严谨，表述清晰)

选考题：43—47 为选考题，共 25 分。请考生从 2 道地理题、3 道历史题中每科任选一题作答。如果多做，则每科按所做的第一题计分。

43.[地理——选修 3：旅游地理] 阅读材料，完成下列要求。(10 分)

近年来，随着登山、徒步、露营等户外运动的兴起，游客对自然风光的偏好进一步增强，日出、云海、星象等天气气候景观成为吸引游客的新奇体验，“气象+旅游”融合发展迎来新的机遇，让旅游美景“可遇可求”。

为让旅游美景“可遇可求”，简述气象部门能够提供的服务内容。

44.[地理——选修 6：环境保护] 阅读材料，完成下列要求。(10 分)

梧凤洲湿地位于巢湖南部湖滨带，近年来，通过水系营造、植被恢复等工程建设，将其修复为近自然湿地，对实现流域可持续发展具有重要意义。在植被恢复措施中，主要选择本土植被并根据不同水深分别布置挺水植物、浮叶植物和沉水植物。

评价栖凤洲植被恢复措施的合理性。

45.【历史——选修 1：历史上重大改革回眸】阅读材料，完成下列要求。(15 分)

材料 清末时期，中国的政治、经济、文化、思想和人们的观念发生了很多的变化，使得中国传统审判制度与现实社会的行进很不协调。伴随西方列强的侵略，清政府统治下的社会矛盾激化，民变不断，民众呼吁更公正的法律制度的出台。新兴资产阶级希望政府通过法律形式保护他们的一切，以便促进资本主义的发展。与此同时，西学翻译著作进入了中国人的视域，使中国人从学识上认识到了西方审判制度的先进。清末新政期间，朝廷派出考察团队学习西方审判制度，出台了效法西方的实体法律，比如《民律草案》《大清商律草案》等。经过法部和大理院的争论和博弈，最终明确了独立审判制度不受任何机构的干涉。《大清刑事民事诉讼法草案》明确规定，法官审案务必根据证据进行断案，所有证据必须在法庭上检验辨别真伪；规定了所有审判务必公开进行。《大清法院编制法》中规定了判案中原告与被告均可以

请律师辩护的原则。清末审判制度改革建立起了我国审判制度和审判机构最基础性的框架体系，推动了我国审判制度和司法实践的近代化发展。

——摘编自周海燕《清朝末期我国审判制度改革的历史考察》

- (1) 根据材料并结合所学知识，概括清末审判制度改革的背景。(8分)
- (2) 根据材料并结合所学知识，指出清末审判制度改革的措施。(7分)

46. 【历史——选修3：20世纪的战争与和平】阅读材料，完成下列要求。(15分)

材料 进入1949年，对华政策成为美国国内党派斗争的一项主要内容。8月杜鲁门民主党政府发表《美国与中国的关系》的白皮书，叙述了从1844年《望厦条约》以来的中美关系及美国对华政策，重点是详尽罗列了抗战后给蒋介石的军事、经济、政治、人员各方面的援助，指责国民党的腐败无能“使亚洲于苏联的征服之中”。白皮书没能平息反对派的批评，首先遭到了亲蒋议员和“院外援华集团”的“劈头盖脑的责难”。白皮书在中国人民中间引起了极大的讨论，新华社发表了《无可奈何的自供状》《别了，司徒雷登》《友谊，还是侵略？》等系列评论，揭露了美国对华政策的本质。

——据王绳祖《国际关系史》

- (1) 根据材料并结合所学知识，指出杜鲁门政府“白皮书”发表的背景。(6分)
- (2) 根据材料并结合所学知识，简评杜鲁门政府的“白皮书”。(9分)

47. 【历史——选修4：中外历史人物评说】阅读材料，完成下列要求。(15分)

材料 莎士比亚是英国文学史上最杰出的戏剧家，也是欧洲文艺复兴时期最重要、最伟大的作家。莎士比亚的生平资料虽然很少，但是从现有材料中，我们也可以了解到他有丰富的人生经历，了解到他能够接受时代先进思潮并写出优秀的作品，都不是偶然的。他的戏剧创作从1590年开始，到1612年结束，先后长达23年。莎士比亚的戏剧把新兴市民阶层的喜怒哀乐和他们的故事搬上舞台，通过对人的尊严、价值和力量的热情讴歌，确立了以人为中心的价值观念。17世纪始，莎士比亚戏剧传入德、法、意、俄、北欧诸国，然后渐及美国乃至世界各地，对各国戏剧发展产生了巨大而深远的影响，并已成为世界文化发展、交流的重要纽带和灵感源泉。

——摘编自《世界通史快读》等

- (1) 根据材料和所学知识，指出莎士比亚进行戏剧创作的有利条件。(6分)
- (2) 根据材料和所学知识，概括莎士比亚戏剧在世界范围内广为传播的原因。(9分)